

## Les pêcheurs

Pourquoi devient-on pêcheur ? Cite 1 ou 2 raisons évoquées dans les témoignages.

-  
-

Quelles sont les principales inquiétudes ou contraintes des pêcheurs ?

-  
-  
-

Choisis un portrait qui t'a plu et explique pourquoi en quelques mots.

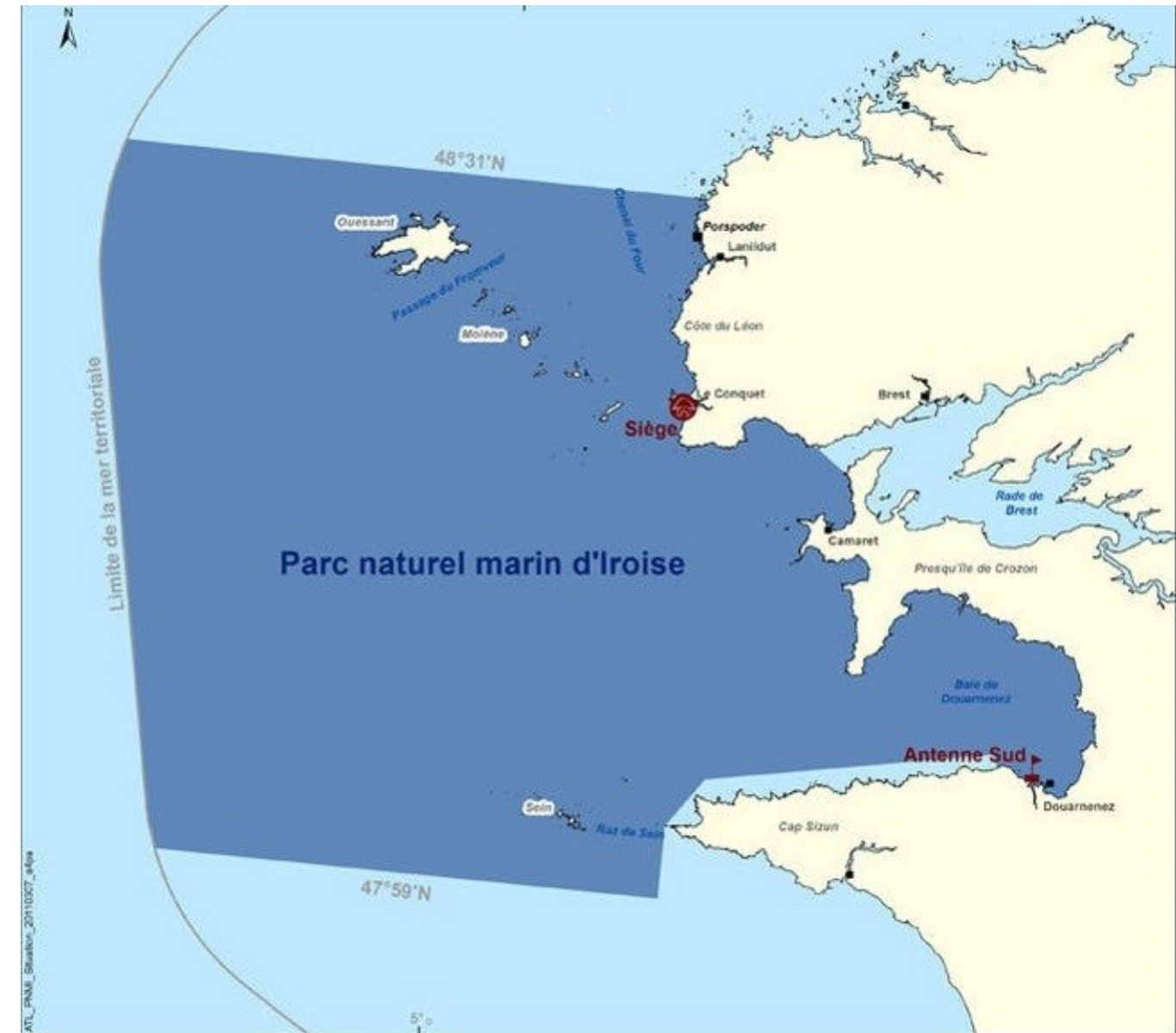
### Ce que tu peux retenir :

Les conjugaisons de la mer d'Iroise :

*Au pluriel* : diversité des métiers

*Au passé, présent et futur* : elle se transmet de générations en générations

*Au féminin* : la place des femmes est de plus en plus importante



Le Parc naturel marin d'Iroise se trouve à la pointe du Finistère en Bretagne, entre l'île d'Ouessant et l'île de Sein. Il protège une surface en mer de 3 500 km<sup>2</sup>.

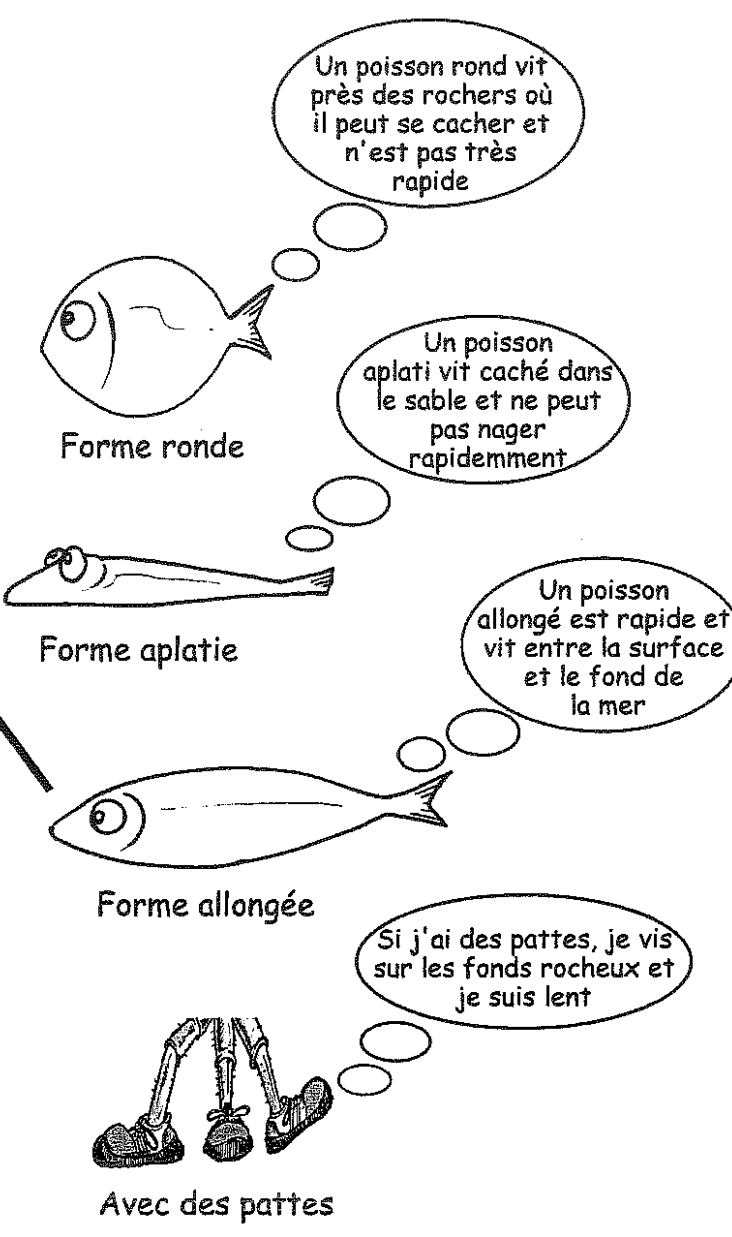
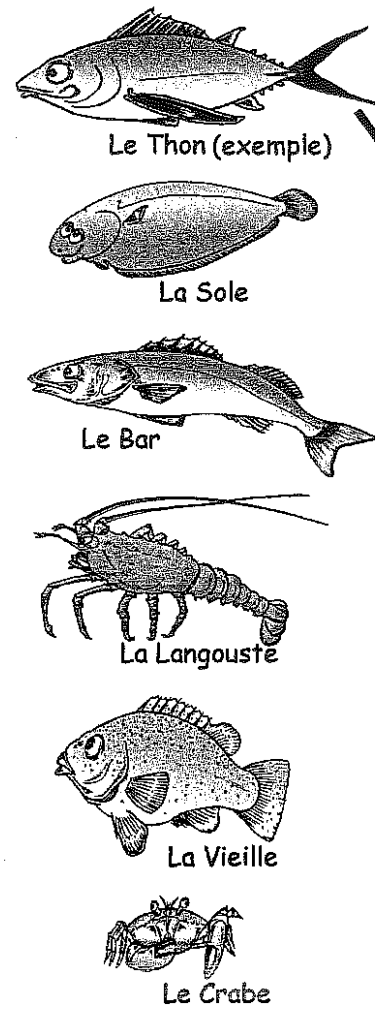
Le parc a pour mission d'étudier la mer d'Iroise et de la protéger. Il veille à ce que les hommes et les femmes puissent y travailler et s'y amuser en la respectant, aujourd'hui pour demain : c'est le développement durable.

C'est le premier Parc naturel marin Français. Il a été créé en 2007. Aujourd'hui il existe 8 autres parcs naturels marins : Mayotte, golfe du Lion, Glorieuses, estuaires picards et mer d'Opale, bassin d'Arcachon, estuaires de la Gironde et mer des Pertuis, Cap Corse et Agriate, Martinique.


Au Parc naturel marin d'Iroise, les décisions sont prises par un conseil de gestion qui rassemble des pêcheurs, des scientifiques, des associations de protection de la nature, des maires...

L'équipe du parc compte une vingtaine de personnes. Leurs bureaux se trouvent au Conquet et à Douarnenez.


Relie chaque animal à la forme qui lui correspond



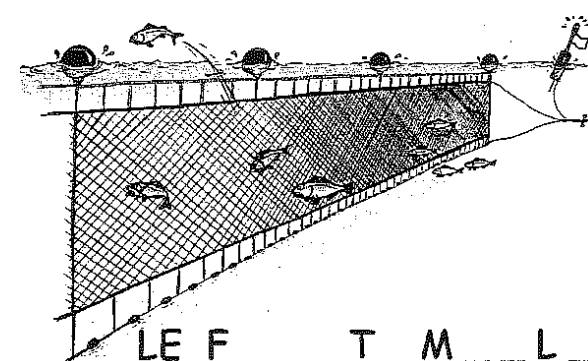
Note le nom de chaque engin de pêche



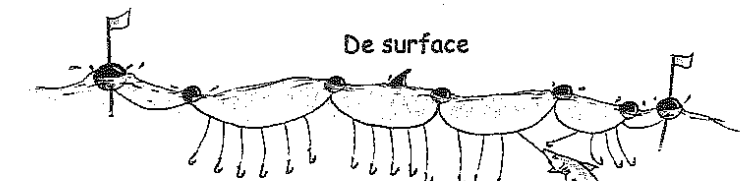
LE C \_ \_ I \_ \_  
(longueur: 1 mètre)



De fond

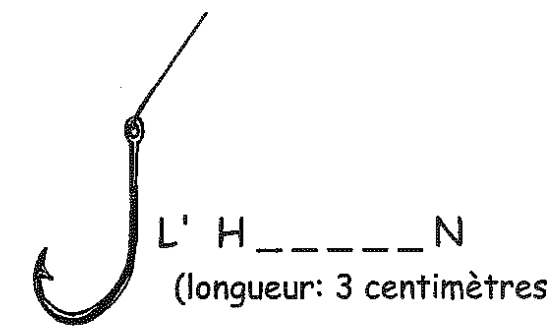


LE F \_ \_ \_ T M \_ \_ L \_ \_ \_ T  
(longueur: 1000 mètres)

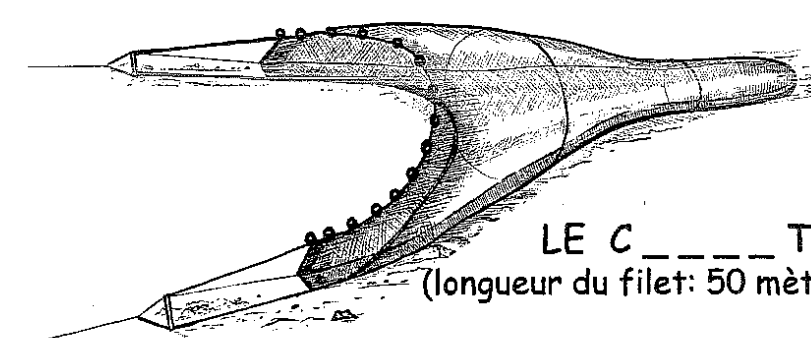


De surface

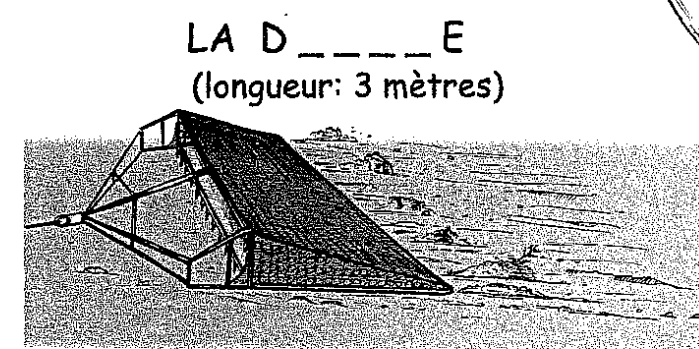
LA P \_ \_ A \_ \_ \_ E  
(longueur: 100 mètres)



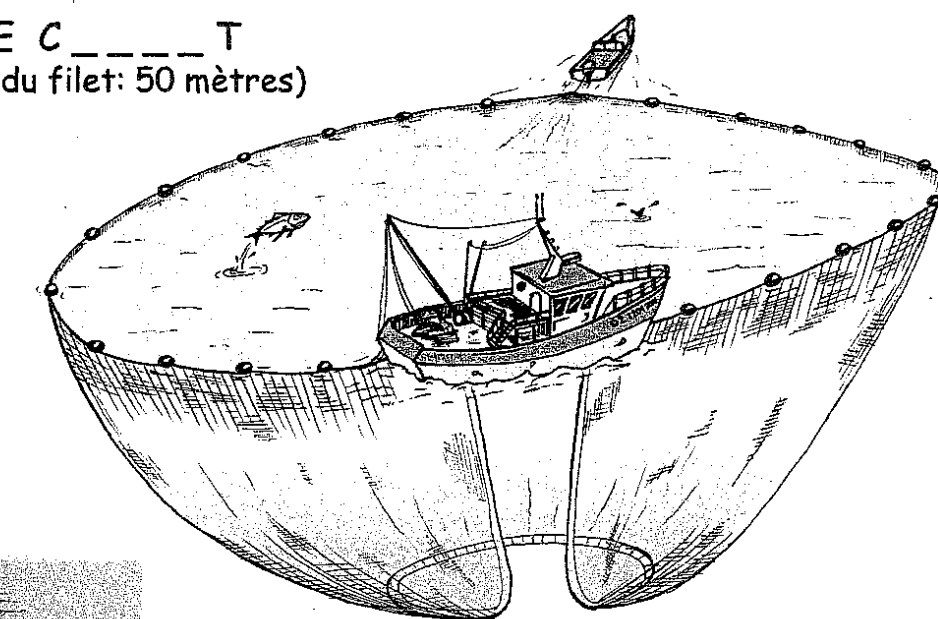
L' H \_ \_ \_ \_ N  
(longueur: 3 centimètres)



LE C \_ \_ \_ \_ T  
(longueur du filet: 50 mètres)



LA D \_ \_ \_ \_ E  
(longueur: 3 mètres)



LA S \_ \_ \_ \_ E  
(longueur: 500 mètres)